





Nom:

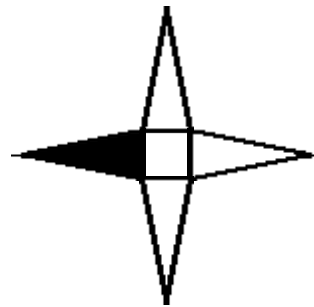
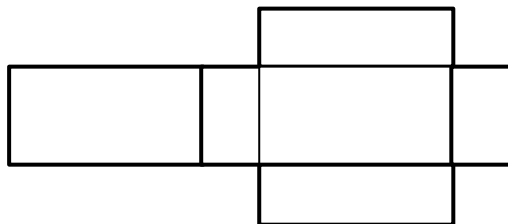
data:

temps:

1. Completa el següent quadre:

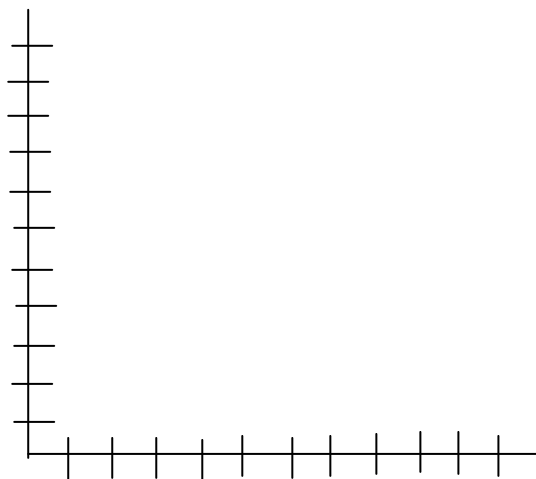
				
Nº de cares				
Nº de vèrtex				
Nº de arestes				
Cos rodó. Si o No				
Políedre. Si o No				
Nom:				

2. Com s'anomenen aquests cossos que tens aquí desenvolupats?:

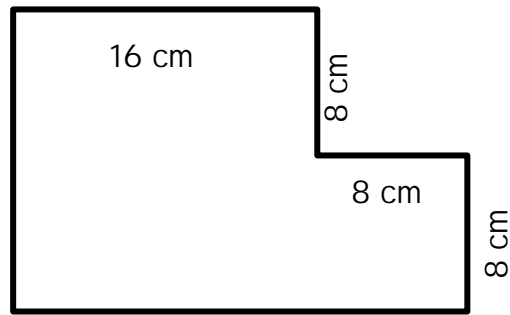


3. Assenyala aquests quatre punts en els eixos de coordenades:

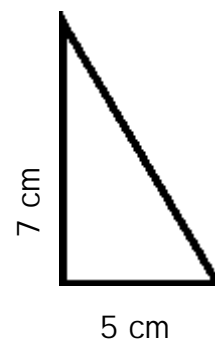
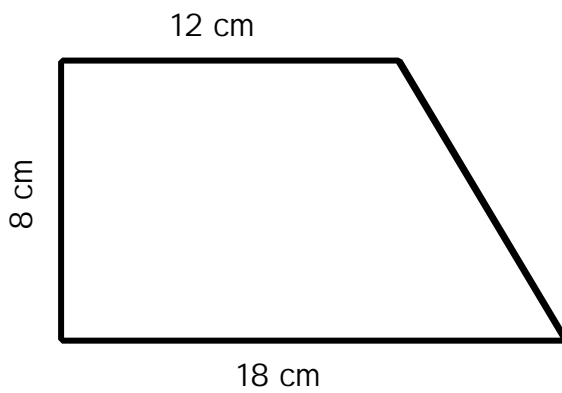
A (2,3) B (5,4) C (2,2) D (3,0)



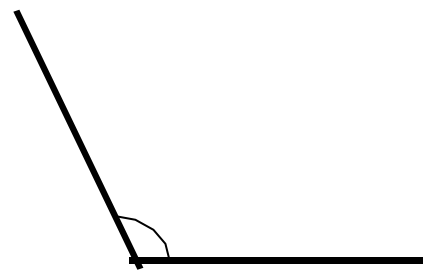
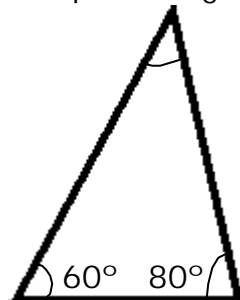
4. Quin és el perímetre d'aquesta figura?:



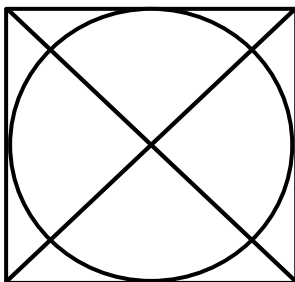
5. Quina és l'àrea d'aquestes figures?:



6. Quant mesuren aquests angles?:



7. Quina de les següents figures NO apareix en el dibuix?:



- A. cercle
- B. triangle rectangle
- C. triangle equilàter
- D. triangle isòsceles
- E. quadrat